



---

L'Istituto Comprensivo di Favria, al fine di potenziare l'apprendimento della lingua straniera, organizza la settimana dedicata alla cultura ed alla lingua inglese, da lunedì 14 a venerdì 18 marzo.

I bambini verranno a scuola indossando, per tutta la settimana, una sorta di uniforme, proprio come gli alunni inglesi (jeans, pantaloni o gonna blu e maglietta bianca) ed una spilla con il logo dell'iniziativa.



## ISTITUTO COMPRESIVO DI FAVRIA

### BRITISH AND AMERICAN SPORTS

*OGNI GIORNO VERRANNO ORGANIZZATE DIVERSE ATTIVITÀ*

#### CLIL

Intervento di un'esperta nelle classi quinte per dare ai bambini informazioni su Londra e sulla civiltà inglese

### SONGS AND RHYMES

Canzoni e Filastrocche



### STORYTELLING

Narrazione di storie in inglese

### ART AND CRAFT

Attività artistiche condotte in inglese

**VISIONE DI CARTOONS** in lingua o di video sulla civiltà inglese

# *Primaria di Rivarossa - English Around the World*



*Classi 1^ e 2^*

# Classe 3<sup>o</sup>



# *Primaria di Rivarossa - English Around the World*



*Classi 4<sup>^</sup> e 5<sup>^</sup>*

# English Sports

Giornata 17 Marzo 2022

## Field Hockey

The game of field hockey is a game played on a sports field between two teams of eleven players who each have a curved stick with which they try to put a small hard ball into the other team's goal.

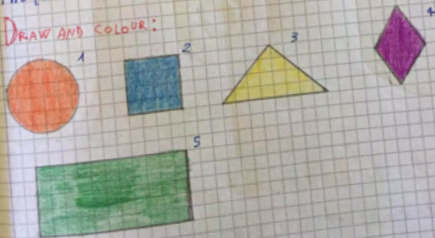
How MANY PLAYERS ARE THERE IN THE SPORTS FIELD?

The players are in total twentytwo (22).

What is the form of the field?

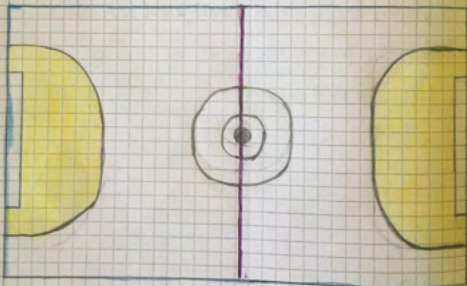
The field is a rectangle.

DRAW AND COLOUR:



- 1) It's an orange circle.
- 2) It's a blue square.
- 3) It's a yellow triangle.
- 4) It's a purple rhombus.
- 5) It's a green rectangle.

Draw a sports field



Calcola la lunghezza del contorno (in quadretti)


$$\text{Lunghezza} = 20 \times 2 = 40 \quad 34 \times 2 = 68 \quad 40 + 68 = 108$$

Calcola il perimetro (in centimetri)

$$\text{Lunghezza} = 12 + 10 = 22 \quad 22 \times 2 = 44 \text{ cm}$$

La misura del contorno o confine di una figura piana si chiama **perimetro**: si calcola sommando le lunghezze di tutti i lati.

Il perimetro del campo da hockey è formato da una linea **spaziata** chiamata **chiamata**.



# CRICKET



## il cricket

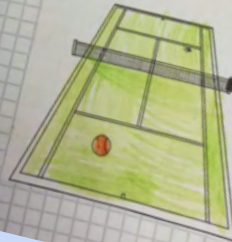
Ogni squadra è composta da undici giocatori, il campo è di forma ovale o rettangolare.

Ogni sessione di gioco (**innings**) vede i giocatori pronti per lanciarsi la palla e difendere il campo (**fielding**).

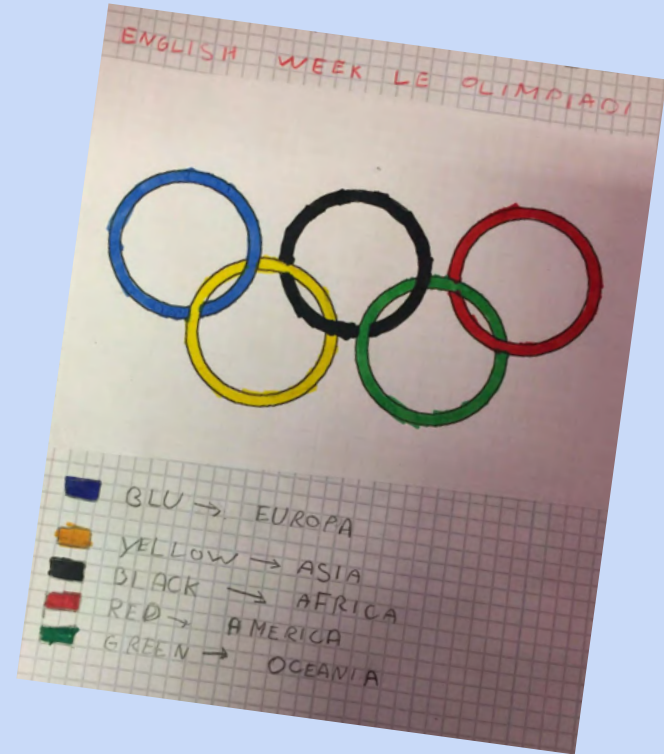
Lo scopo del gioco è quello di conquistare più punti possibili, eliminando tutti gli avversari.

## TENNIS

Una partita di tennis cioè MATCH, è composta da set e game. Una partita è composta da 3 set. Un set è composto da 6 game. Per vincere bisogna avere vinto 2 set su 3.



# Olympic Games



# *Primaria di Rivarossa - English Afternoon Tea*





# Primaria di Front - English Around the World



Classi 1^ e 3^

# Primaria di Front - English Around the World



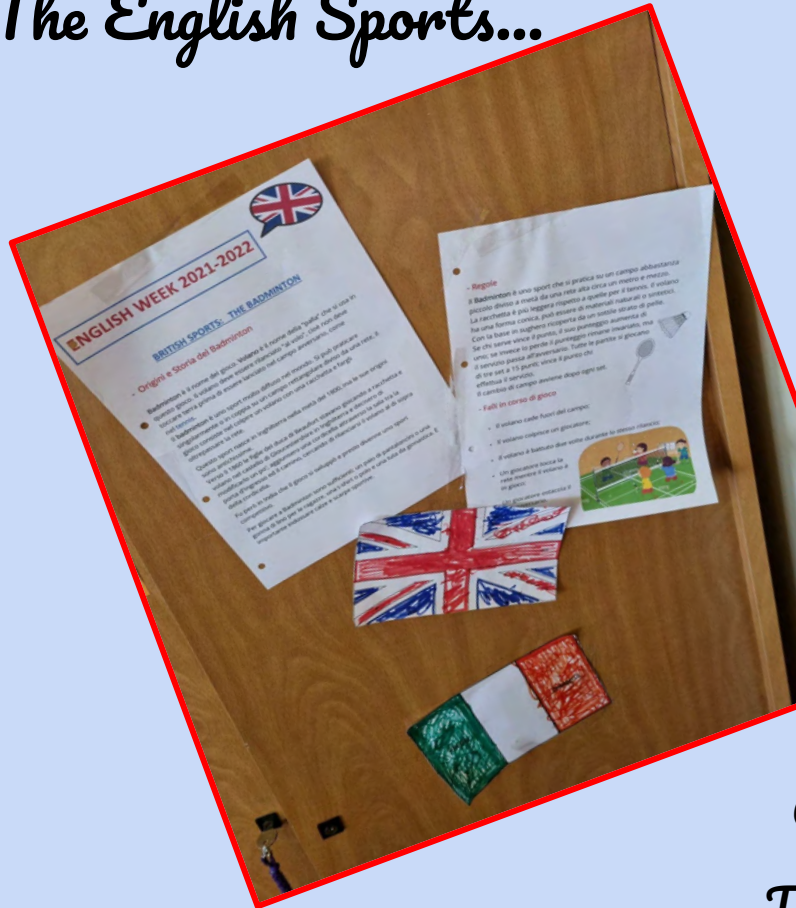
Classi 1A e 3A

# Primaria di Front - English Around the World

Classi 1A e 3A



# Primaria di Front..... The English Sports...



Classe 3A....

The Badminton

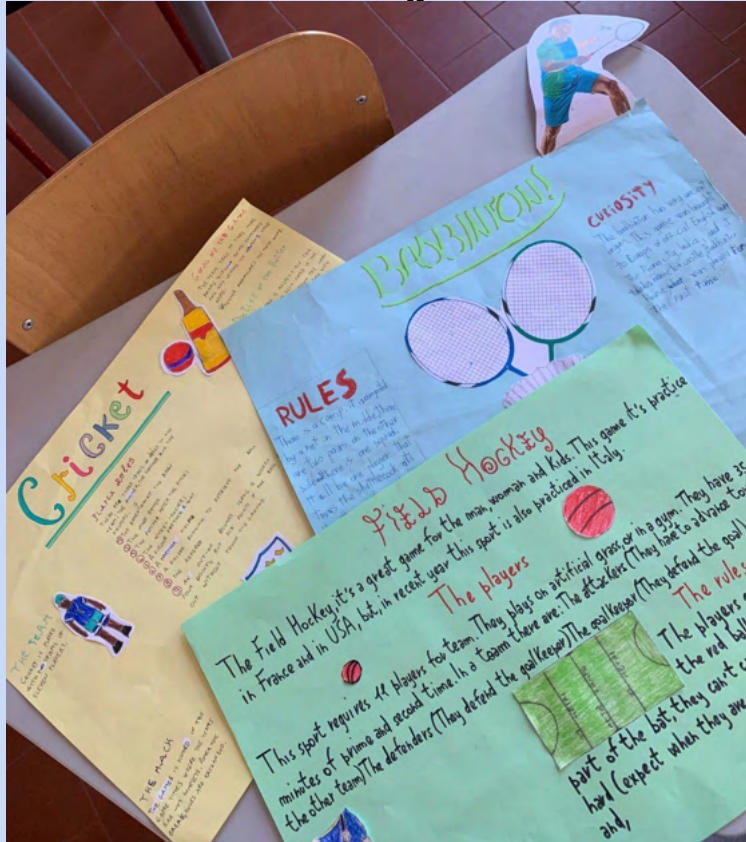


# Primaria di Front - English Around the World




Classe 4A

# Primaria di Front - Sports in the UK



Classe 5A

# Primaria di Front - English Around the World



Classe 5A



# Primaria di Front ...


Classe 5A



# Primaria di Front....what's the last number?

we discover the magic spell....

March 16<sup>th</sup> 2022  
 What's the last number?



2 412345 67890 2

**Magic Spell**


- Leggendo il codice da destra verso sinistra, moltiplica per 1 le cifre che occupano le posizioni pari, e per 3 le cifre che occupano le posizioni dispari.
- Calcola i valori dei prodotti ottenuti.
- Sottrai la somma ottenuta dal multiplo di 10 superiore. Il risultato ottenuto è il numero che occupava la posizione dispari.

**THE LAST NUMBER**

0	1	2	3	4	5	6	7	8	9
0	3	6	9	12	15	18	21	24	27

100 - 99 = 1  
 The last number is 1

MARCH 16<sup>th</sup> 2022  
 What's the last number?



2 412345 67890 1


**MAGIC SPELL**

- LEGGENDO IL CODICE DA DESTRA VERSO SINISTRA, MOLTIPLICA X1 LE CIFRE CHE OCCUPANO LE POSIZIONI PARI E X3 LE CIFRE CHE OCCUPANO LE POSIZIONI DISPARI.
- SOMMA I VALORI DEI PRODOTTI OTTENUTI.
- SOTTRAI LA SOMMA OTTENUTA DAL MULTIPLO DI 10 SUPERIORE, IL RISULTATO OTTENUTO È IL NUMERO CHE OCCUPAVA LA POSIZIONE DISPARI.

0	1	2	3	4	5	6	7	8	9
0	3	6	9	12	15	18	21	24	27

Somma = 99  
 100 - 99 = 1  
 IT'S THE LAST NUMBER OF EACH BAR CODE

16/03/2022  
 What's the last number?



2 412345 67890 1

**MAGIC SPELL**


- LEGGENDO IL CODICE DA DESTRA VERSO SINISTRA, MOLTIPLICA X1 LE CIFRE CHE OCCUPANO LE POSIZIONI PARI E X3 LE CIFRE CHE OCCUPANO LE POSIZIONI DISPARI.
- SOMMA I VALORI DEI PRODOTTI OTTENUTI.
- SOTTRAI LA SOMMA OTTENUTA DAL MULTIPLO DI 10 SUPERIORE, IL RISULTATO OTTENUTO È IL NUMERO CHE OCCUPAVA LA POSIZIONE DISPARI.

0	1	2	3	4	5	6	7	8	9
0	3	6	9	12	15	18	21	24	27

Somma = 99  
 100 - 99 = 1  
 IT'S THE LAST NUMBER OF EACH BAR CODE

Classe 5A

# Primaria di Front...english origami...



Classe 5A

# Primaria di Busano: classe 1<sup>^</sup>



# Primaria di Busano: classe 2<sup>^</sup> e classe 3<sup>^</sup>



# Primaria di Busano: classe 3<sup>^</sup>



# Primaria di Busano: classe 4<sup>^</sup>



# Primaria di Busano: classe 5<sup>^</sup>



Classe 5<sup>^</sup> Busano



Classe 5<sup>^</sup> Busano



Classe 5<sup>^</sup> Busano





# ENGLISH WEEK

PRIMARIA SALASSA



# Jump, Run and Shout !



All together now

Salassa - IC Favria




# CLASSE SECONDA



# CLASSE TERZA



# HARRY POTTER E IL QUIDDITCH ... uno sport tra fantasia e realtà





Salassa  
classe 3<sup>^</sup>

# Il cricket anglosassone in un Lapbook: "My favourite Cricket Player"



Salassa classe 4<sup>A</sup>







# CLASSE QUARTA



# CLASSE QUARTA




# CLASSE QUARTA - BADMINTON



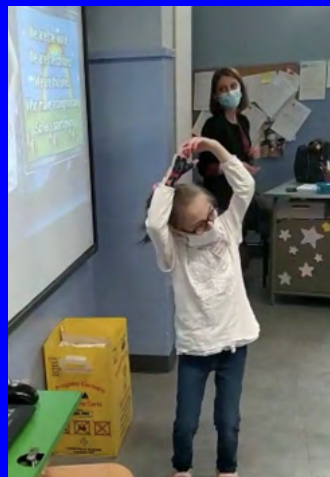
# CLASSE QUARTA – BRITISH MONEY



# CLASSE QUINTA



# A OGLIANICO...



# SCUOLA PRIMARIA DI FAVRIA

Iniziare tutti insieme al mattino è più bello!



WE CAN SING, WE CAN DANCE...ALL TOGETHER!





# CLASSI SECONDE

ENGLISH WEEK



MONDAY, 14 MARCH 2022

SPORT  
TENNIS



IN ORIGINE QUESTO SPORT VENIVA

PRATICATO IN FRANCIA: SI COPIVA LA PALLINA CON IL PALMO DELLA MANO. IL GIOCO, COME LO CONOSCIAMO NOI, È NATO IN INGHILTERRA. SI GIOCA IN UN CAMPO RETTANGOLARE. I GIOCATORI COLPISCONO LA PALLINA CON UNA RACCHETTA PER MANDARLA DALL'ALTRA PARTE DELLA RETE. LA PALLINA PUÒ FARE SOLO UN RIMBALZO.

Thursday, 17<sup>th</sup> March 2022

*The names of sports.*

PALLINA → BALL

NOME COMUNE DI COSA, FEMMINILE, SINGOLARE

RACCHETTA → RACKET

NOME COMUNE DI COSA, FEMMINILE, SINGOLARE

CAMPO → CAMP

NOME COMUNE DI COSA, MASCHILE, SINGOLARE

RETE → NET

NOME COMUNE DI COSA, FEMMINILE, SINGOLARE

RIMBALZO → REBOUND

NOME COMUNE DI COSA, MASCHILE, SINGOLARE

BADMINTON



QUESTO È UNO SPORT CHE HA ORIGINE MOLTO PIÙ ANTICHE RISPETTO AL TENNIS. PROBABILMENTE È NATO IN CINA E SI È POI DIFFUSO IN INGHILTERRA.

SI PRATICA IN UN CAMPO ABBASTAN

ZA PICCOLO E I GIOCATORI CON UNA RACCHETTA PIÙ LEGGERA COLPISCONO IL VOLANO PER LANCIARLO DALL'ALTRA PARTE DELLA RETE. IL VOLANO NON DEVE TOCCARE A TERRA PRIMA DI ESSERE COLPITO.

TENNISTA → TENNIS PLAYER

NOME COMUNE DI PERSONA, GENERE COMUNE

GIOCATTORE → PLAYER

NOME COMUNE DI PERSONA, MASCHILE, SINGOLARE

VOLANO → FLYWHEEL

NOME COMUNE DI COSA, MASCHILE, SINGOLARE

SQUADRA → SQUAD

NOME COMUNE DI COSA, FEMMINILE, SINGOLARE

PUNTI → POINTS

NOME COMUNE DI COSA, MASCHILE, PLURALE

MAZZA → BAT

NOME COMUNE DI COSA, FEMMINILE, SINGOLARE

QUANTO DI CRICKET → CRICKET GLOVE

MONDAY, 21<sup>ST</sup> MARCH 2022

THE NAMES OF SPORTS

Quadrante 1: nomi delle sport che abbiamo praticato e studiammo come italiano.

FEMMINILE SINGOLARE	FEMMINILE PLURALE	MASCHILE SINGOLARE	MASCHILE PLURALE
RACCHETTA	PALLINE	PALLINO	PALLINI
RETE	RACCHETTE	PALLING	PALLINI
SQUADRA	RETI	TENNISTI	TENNISTE
MAZZA	SQUADRE	GIOCATORI	GIOCATRICI
	MAZZE	VOLANI	PUNTI
		PUNTO	PUNTE
		QUANTO	QUANTI

Cricket



Il cricket è probabilmente nato in Inghilterra ed è un gioco di squadra. Lo scopo è quello di fare più punti possibile senza essere eliminati. Si pratica con la mazza, la

HE IS ROGER FEDERER



HOW IS ROGER FEDERER?

BRAVO → GOOD

BELLO → BEAUTIFUL

ALTO → TALL

SVIZZERO → SWISS

GIOVANE → YOUNG

FATIGOSO → FATIGOUS

GRANDIOSO → GREAT

RICCO → RICH

FORTE → STRONG

MUSCOLOSO → MUSCLED

VINCENTE → WINNING

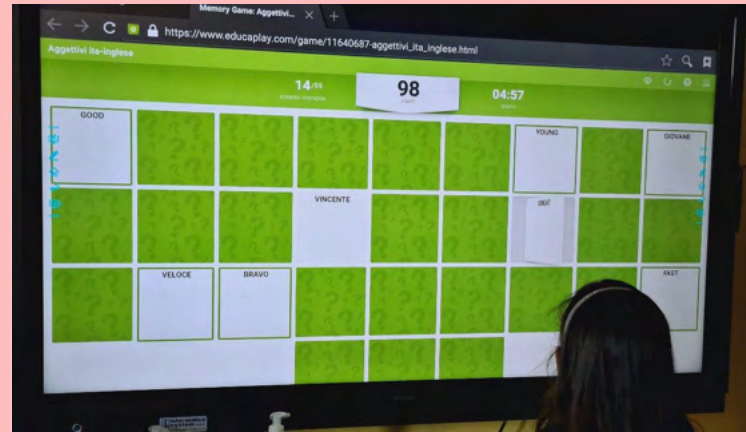
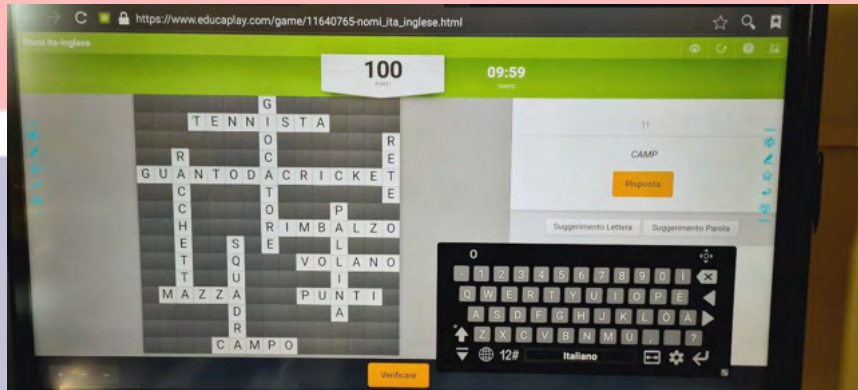
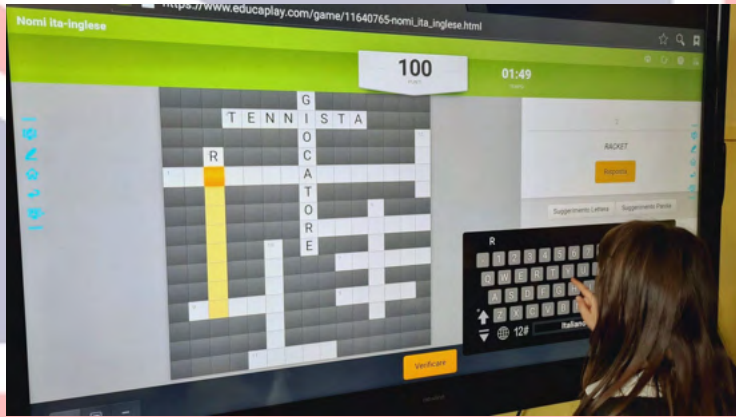
MAGRO → THIN

SNELLO → SLENDER

VELOCE → FAST

ALLENATO → STRAINED


## NOMI E AGGETTIVI "SPORTIVI" IN ITALIANO E IN INGLESE



[https://www.educaplay.com/learning-resources/11640687-agggettivi\\_ita\\_inglese.html](https://www.educaplay.com/learning-resources/11640687-agggettivi_ita_inglese.html)

[https://www.educaplay.com/learning-resources/11640765-nomi\\_ita\\_inglese.html](https://www.educaplay.com/learning-resources/11640765-nomi_ita_inglese.html)

# CLASSI TERZE: disegniamo e addobbiamo la scuola



# ENGLISH WEEK 3A E3B



# AFTERNOON TEA






# TEA TIME



# In giro per Londra









Addobbiamo la scuola!





# Let's play badminton!



# Robin Hood











# Il memory per la festa del papà

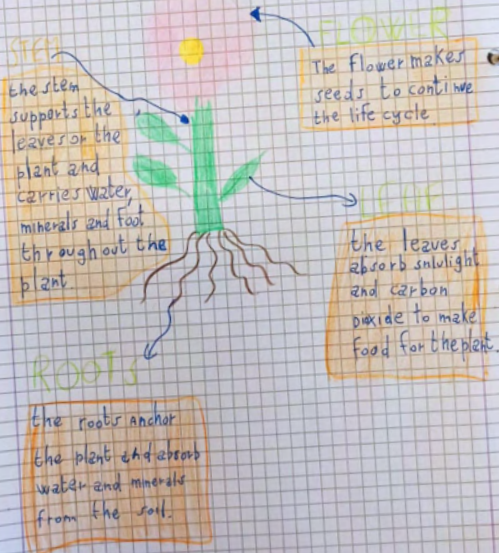


# Science in English

## English week

March 15th, 2022

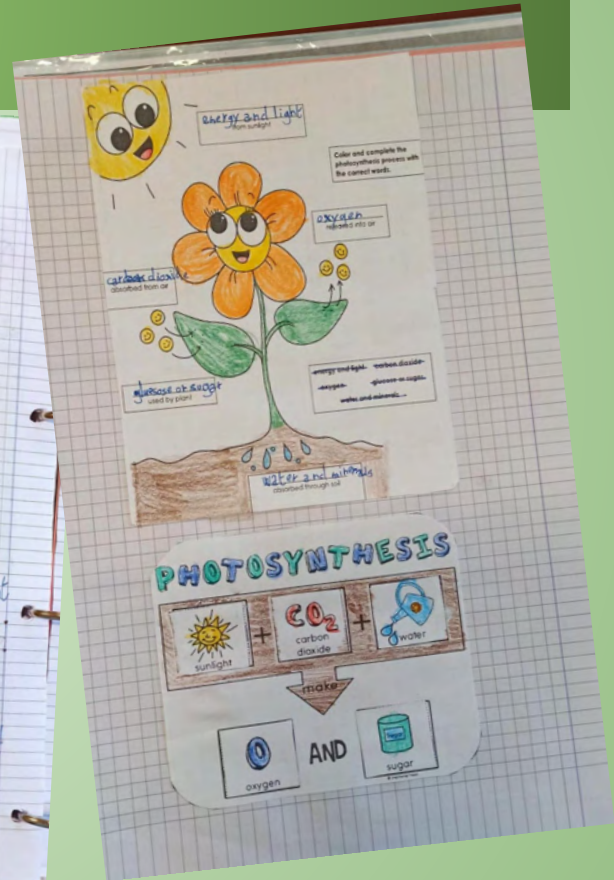
### Part of a plant



## The leaf




The leaf is one of the most important parts of the plant. It has got a **GREEN PIGMENT** called **CHLOROPHYLL**. Chlorophyll absorbs the **SUNLIGHT** and makes food for the plant.





## Reading and comprehension



March, 14th 2022  
English week

### Sports un UK

Many of the sports popular **all over the world** as rugby and football were invented by the British. People regularly take part in sports and all schools in Britain have a **playing field** and a **gymnasium**.

People enjoy watching sports on television too.

The **most popular** sports in Britain are rugby, cricket, tennis and football.

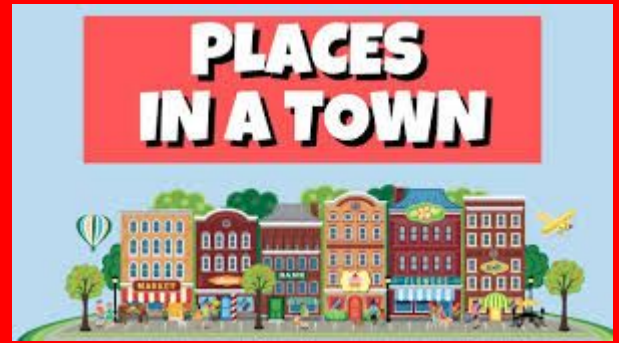
**Football** is played every day of the week, some English teams like Manchester United, Liverpool and Chelsea are famous all over the world.

**Rugby** is another important sport, played with two teams and an oval-shaped ball.

**Cricket** is a very typical summer sport, there are two teams of eleven **players** and two **umpires**.


Cricket is also very popular in India and Pakistan.

**Tennis** is another summer sport and one of the most famous **tournament** is in Britain: Wimbledon tournament. It takes place during July. The game is played with two or four players, they hit a small ball with a racket to the other side of the **tennis court**.



AND TEA TIME





Thank you teacher Gaita



SPORT E  
SIMBOLI  
DELLA  
CITTA'  
LONDINESE